

## NÍVEL FUNDAMENTAL

**CARGO: 01**

**SERVIÇOS GERAIS - SERVENTE**

**CETAP**



### INSTRUÇÕES ESPECIAIS

- 01** Você está recebendo o seu Caderno de Questões, contendo 50 (cinquenta) questões objetivas de múltipla escolha, numeradas de 01 a 50, em ordem sequencial. Confira a sequência numérica de seu Caderno de Questões antes de iniciar a resolução, assim como o número de páginas, comunicando, imediatamente, o Fiscal de Sala, em caso de repetição ou ausência de questão ou página.
- 02** Você deve conferir, na capa do Caderno de Questões e no rodapé das páginas internas, o nome do cargo ao qual este Caderno de Questões se refere. Caso você tenha recebido um Caderno de Questões que não corresponda ao cargo para o qual está inscrito, comunique imediatamente o Fiscal de Sala e exija o Caderno de Questões correto.
- 03** As respostas das questões objetivas de múltipla escolha do Caderno de Questões deverão ser transcritas para o Cartão Resposta com caneta esferográfica de tinta azul ou preta.
- 04** Para cada questão da Prova Objetiva de Múltipla Escolha existirão 05 (cinco) alternativas de resposta (A, B, C, D e E), das quais apenas uma será correta, de acordo com o comando da questão. A marcação de mais de uma no Cartão Resposta anula, automaticamente, a resposta da questão.
- 05** O tempo máximo disponível para realização da prova é de 03h30 (três horas e trinta minutos), já incluído o tempo destinado à identificação e ao preenchimento do Cartão Resposta.
- 06** Somente depois de decorridos 60 minutos do início da prova, o candidato poderá entregar o seu Caderno de Questões e o seu Cartão Resposta, e retirar-se da sala de prova.
- 07** Os 3 (três) últimos candidatos só poderão sair da sala de prova juntos.
- 08** Será permitido ao candidato levar consigo o Caderno de Questões e o Gabarito desde que nos últimos 30 (trinta) minutos antes do término da prova.

### ATENÇÃO

Escreva no espaço apropriado do **Cartão Resposta**, com a sua caligrafia usual, a seguinte “frase mestra” de Dalai Lama:

**“Viva uma vida boa e honrada.”**

A transcrição da “frase mestra” é obrigatória e servirá para identificar o Cartão Resposta do candidato, bem como possibilitar o Exame Pericial Grafotécnico, quando for o caso.



**PREFEITURA MUNICIPAL DE VISEU/PA**  
Concurso Público n.º 01/2013



Leia o texto e responda o que se pede no comando das questões.

### É o bicho.

Bruno Hoffmann

A bicharada está ao nosso lado desde o início da aventura humana. Quando começou a dominar as armas, o homem passou a domesticar os bichos. Desde então, a união nunca mais se desfez. Tornou-se fundamental para a evolução da espécie. “A conexão animal percorre a história e se conecta a outros grandes saltos evolutivos, incluindo a criação de ferramenta, a linguagem e a domesticação”, explica a paleontóloga Pat Shipman, da Universidade da Pensilvânia, nos Estados Unidos.

Aos poucos, a relação deixou de ser apenas de dependência para tornar-se também amorosa. Um exemplo? Em Israel, foi encontrado um fóssil de uma criança abraçada a um cachorro. Os ossos estavam naquela posição havia pelo menos 10 mil anos. Outro que tinha veneração pelos bichos era Francisco de Assis, que, no século 13, ensinava: “Todas as coisas da criação são filhos do Pai e irmãs do homem. Deus quer que ajudemos aos animais. Toda criatura em desgraça tem o mesmo direito a ser protegida”.

O filósofo grego Demócrito, que viveu em 460 antes de Cristo, defendia: “O animal é tão ou mais sabido do que o homem. Conhece a medida da sua necessidade, enquanto o homem a ignora”. Já o comediante norte-americano Bill Maher resumiu como poucos o prazer de ter um cão: “A razão de eu amar tanto o meu cachorro é porque quando chego em casa ele é o único no mundo que me trata como se fosse um Beatles”.

Às vezes, porém, os animais deixam a posição de meros coadjuvantes para desempenhar o papel de protagonistas. Muitos foram alçados ao estrelato no mundo todo. E, claro, no Brasil. É a história de um desses brasileiros peludos que desfila a seguir.

Peteleco buscava pães e compunha sambas.

Adoniran Barbosa não escondia de ninguém que um de seus melhores amigos era Peteleco, não se tratava de nenhum companheiro de rodas de samba, mas do cachorrinho xodó do compositor. Peteleco era tão sabido que buscava pães na padaria e costumava entrar no mar de Santos junto com o dono, deitado sobre seu peito.

A devoção pelo bichinho era tanta que Adoniran resolveu torná-lo também compositor. Seja para criar ao lado de artistas de outras associações de direitos autorais, seja para não colocar seu nome ao lado de desafetos, há pelo menos seis sambas de Adoniran assinados por Peteleco.

Fonte: Brasil. Almanaque de cultura popular. Ano 14, nov/12.

#### Questão 01

Assinale a alternativa em que o provérbio representa a postura de Adoniran em relação a Peteleco:

- A) De ruim ninho, sai, às vezes, bom passarinho.
- B) Quanto mais conheço os homens, mais amo meus cães.
- C) Uma andorinha só não faz verão.
- D) Macaco olha o teu rabo, deixa o rabo do vizinho.
- E) Em terra de sapo, de cócoras com eles.

#### Questão 02

Assinale a alternativa em que a forma verbal empregada não é uma forma nominal:

- A) “(...) dominar as armas, (...)”.
- B) “(...) de ser apenas de (...)”.
- C) “(...) incluindo a criação de ferramenta, (...)”.
- D) “A razão de eu amar (...)”.
- E) “(...) 'quando chego em casa' (...)”.

#### Questão 03

Ao falar de seu cão, Bill Maher diz: “(...) 'é o único no mundo que me trata como se fosse um Beatles.”. A frase sugere que:

- A) o cão o trata com idolatria.
- B) o cão odeia rock.
- C) Bill é odiado por todos os familiares.
- D) o cão já perdeu a memória.
- E) o cão o ignora ou não o reconhece mais.

#### Questão 04

O vocábulo “bicho” é grafado com “ch”, o que não é correto em:

- A) arrocho.
- B) bochecha.
- C) chuchu.
- D) puchar.
- E) pechincha.

#### Questão 05

A palavra “desafeto” tem como sinônimo e antônimo, respectivamente:

- A) adversário/amigo.
- B) meigo/agressivo.
- C) traficante/benemérito.
- D) parceiro/inimigo.
- E) companheiro/solidário.

#### Questão 06

Em todas as alternativas, estão destacados corretamente, entre parênteses, os sujeitos das orações, exceto:

- A) “A bicharada está ao nosso lado (...)” / (A bicharada).
- B) “A conexão animal percorre a história (...)” / (A conexão animal).
- C) “Aos poucos, a relação deixou (...)” / (Aos poucos).
- D) “Às vezes, porém, os animais deixam a posição de meros coadjuvantes (...)” / (os animais).
- E) “Muitos foram alçados ao estrelato no mundo todo.” / (Muitos).

#### Questão 07

A separação em sílabas está correta na alternativa:

- A) u-ni-ão.
- B) con-ecta.
- C) de-pen-dên-cia.
- D) ne-ce-ssi-da-de.
- E) Ca-cho-rro.

Questão 08

De "Peteleco buscava pães e compunha sambas.", só não é correto afirmar que:

- A) "pães" e "sambas" são objetos diretos.
- B) o período é composto.
- C) a segunda oração é coordenada aditiva.
- D) os predicados são nominais.
- E) as formas verbais estão no pretérito.

Questão 09

Assinale a alternativa cujo substantivo, quanto ao gênero, é sobrecomum:

- A) cachorro.
- B) criança.
- C) pai.
- D) homem.
- E) brasileiros.

Questão 10

A pluralização das palavras está correta na alternativa:

- A) cão-cães / posição-posições.
- B) compositor-compositoris / estrelato-estrelatus.
- C) início-inícios / fóssil-fósses.
- D) cachorro-cachorros / conexão-conequições.
- E) compositor-compositores / pai-paes.

Questão 11

As palavras "tão" e "mais" em "O animal é tão ou mais sabido do que o homem." dão ideias de:

- A) proporção/concessão.
- B) adição/alternância.
- C) igualdade/superioridade.
- D) inferioridade/igualdade.
- E) oposição/inclusão.

Questão 12

Com a frase "O animal é tão ou mais sabido do que o homem.", o filósofo grego Demócrito refere-se ao homem como:

- A) um animal inferior.
- B) um animal agressivo.
- C) um bicho pouco inteligente.
- D) um elemento excluído do conjunto dos animais.
- E) o rei dos animais racionais.

Questão 13

É correto afirmar sobre as aspas presentes no texto:

- A) Foram usadas para destacar neologismos.
- B) Foram empregadas em citações.
- C) Foram aplicadas para assinalar os estrangeirismos.
- D) Foram usadas na citação de legendas.
- E) Foram empregadas em função das ironias.

Questão 14

Não há equivalência entre o substantivo e seu coletivo em:

- A) cães-matilha.
- B) aves-bando.
- C) animais-fauna.
- D) artistas-cáfila.
- E) filhos-prole.

Questão 15

Marque a alternativa em que os pares de palavras funcionam como antônimas:

- A) conexão/evolutivo.
- B) samba/compositor.
- C) protagonista/antagonista.
- D) comediante/prazer.
- E) artista/desafeto.

Questão 16

Ao transformar a estrutura: "A conexão animal percorre a história (...)" em voz passiva, tem-se:

- A) A história seria percorrida pela conexão animal.
- B) A história é percorrida pela conexão animal.
- C) Conexão animal percorre a história animal.
- D) Percorrem-se a conexão animal.
- E) Pela história, percorreu-se a conexão animal.

Questão 17

"Muitos foram **alçados** ao estrelato no mundo todo.". A palavra "alçados" pode ser substituída, sem mudar o sentido, por:

- A) acorrentados.
- B) rebaixados.
- C) elevados.
- D) aviltados.
- E) ridicularizados.

Questão 18

Em: "Muitos foram alçados ao estrelato **no mundo todo**.", "no mundo" funciona, sintaticamente, como:

- A) adjunto adverbial.
- B) predicativo do objeto.
- C) aposto.
- D) vocativo.
- E) predicativo do sujeito.

Questão 19

A única possibilidade de reescritura da frase, a seguir, de modo correto, quanto à pontuação, é:

"Muitos foram alçados ao estrelato no mundo todo."

- A) Muitos foram, alçados ao estrelato, no mundo todo.
- B) No mundo todo, muitos foram alçados ao estrelato.
- C) Muitos no mundo todo, foram alçados no estrelato.
- D) Muitos, foram alçados, ao estrelato, no mundo todo.
- E) Ao estrelato muitos, foram alçados, no mundo todo.

Questão 20

Assinale a opção em que há substantivo abstrato:

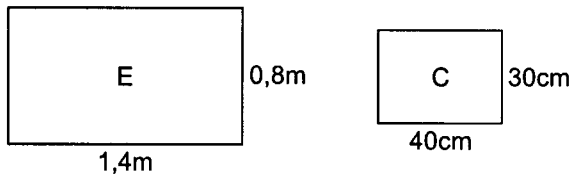
- A) armas.
- B) fóssil.
- C) pães.
- D) veneração.
- E) cachorro.



MATEMÁTICA

Questão 21

Qual a razão entre a área do retângulo "C" para a área do retângulo "E"?



- A)  $\frac{3}{28}$
- B)  $\frac{120}{112}$
- C)  $\frac{1}{8}$
- D)  $\frac{112}{12}$
- E)  $\frac{4}{7}$

Questão 22

O valor de R\$ 2.000,00 foi repartido entre três funcionários de uma firma em partes diretamente proporcionais ao número de horas extras que cada um trabalhou:

- Funcionário A → 3 horas
- Funcionário B → 2 horas
- Funcionário C → 5 horas

Qual o valor recebido pelo Funcionário C?

- A) R\$ 1.200,00
- B) R\$ 950,00
- C) R\$ 680,00
- D) R\$ 1.000,00
- E) R\$ 1.100,00

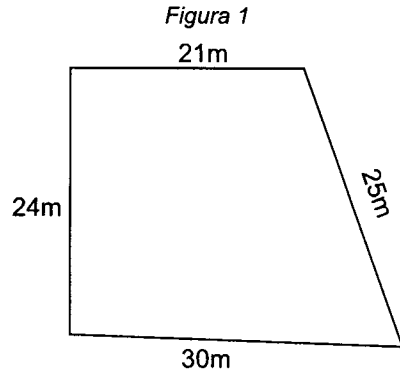
Questão 23

Para digitar um livro, 12 pessoas levaram 8 dias. Quantos digitadores, com a mesma capacidade de trabalho, são necessários para realizar esta mesma tarefa em 6 dias?

- A) 10
- B) 12
- C) 13
- D) 14
- E) 16

Questão 24

Um terreno, representado na *Figura 1*, a seguir, precisa ser murado. Calcule o perímetro desse terreno e assinale a alternativa que indica quantos metros de muro devem ser construídos:



- A) 120m
- B) 100m
- C) 105m
- D) 102m
- E) 90m

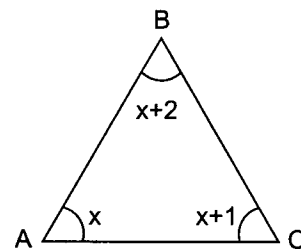
Questão 25

Ao comprar uma geladeira no valor R\$ 720,00, paguei 25% à vista. Quanto paguei à vista?

- A) R\$ 120,00
- B) R\$ 160,00
- C) R\$ 185,00
- D) R\$ 180,00
- E) R\$ 200,00

Questão 26

"Em qualquer triângulo, a soma das medidas dos ângulos internos é igual a 180°.". Assinale a alternativa que contém o valor do maior ângulo do triângulo seguinte:



- A) 70°
- B) 62°
- C) 61°
- D) 60°
- E) 72°

Questão 27

Em um restaurante, o preço de um prato de feijoada é igual a cinco vezes o preço de um copo de suco. Sabendo que o preço do prato de feijoada mais o preço do copo de suco é de R\$ 9,00, qual o preço do prato de feijoada?

- A) R\$ 7,50
- B) R\$ 8,50
- C) R\$ 8,00
- D) R\$ 6,50
- E) R\$ 7,00

Questão 28

Para revestir o piso de uma escola com 600m<sup>2</sup> de área, usaram-se 10.200 lajotas. Quantas destas lajotas serão necessárias para revestir o piso de outra escola com 400m<sup>2</sup> de área?

- A) 3.500
- B) 6.800
- C) 6.400
- D) 7.100
- E) 6.450

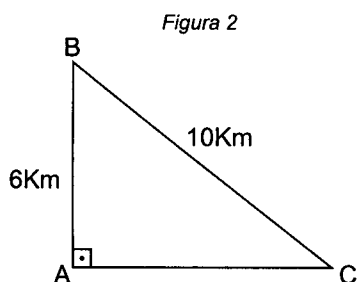
Questão 29

Uma caixa d'água tem a forma de um cubo com 3 metros de aresta. Qual o volume dessa caixa d'água?

- A) 270ℓ
- B) 2.700ℓ
- C) 27.000ℓ
- D) 9.000ℓ
- E) 90.000ℓ

Questão 30

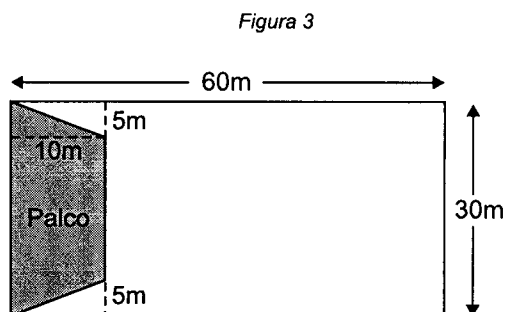
Na Figura 2, a seguir, os lados do triângulo representam as estradas que ligam 3 cidades: A, B e C. Qual a distância de A até C?



- A) 9 Km
- B) 7 Km
- C) 7,5 Km
- D) 8,5 Km
- E) 8 Km

Questão 31

Um auditório foi construído de forma retangular, conforme a Figura 3. Aproximadamente, a área do palco representa quantos por cento da área total do auditório?



- A) 10%
- B) 12%
- C) 8%
- D) 14%
- E) 15%

Questão 32

Na Tabela 1, a seguir, foram registradas as vendas de dois tipos de livros durante uma Programação Cultural:

Tabela 1

LIVROS	Nº de Exemplares	Preço por unidade
TIPO A	3.500	R\$ 20,00
TIPO B	2.500	R\$ 30,00
TOTAL		

O preço médio desses livros por unidade foi de, aproximadamente,:

- A) R\$ 26,30
- B) R\$ 25,86
- C) R\$ 24,16
- D) R\$ 27,00
- E) R\$ 28,10

Questão 33

Quatro jovens disputavam a vaga de secretário em um escritório de contabilidade. Durante o processo de seleção, um candidato perguntou ao entrevistador: "Qual é o salário oferecido?"

O entrevistador respondeu:

"Resolva a equação  $3-(3x-6)=2x+(4-x)$  e multiplique o valor de x por mil, o primeiro a dar a resposta certa, que corresponde ao salário oferecido, será o contratado."

Qual é o valor do salário oferecido?

- A) R\$ 1.250,00
- B) R\$ 1.350,00
- C) R\$ 1.200,00
- D) R\$ 1.420,00
- E) R\$ 950,00

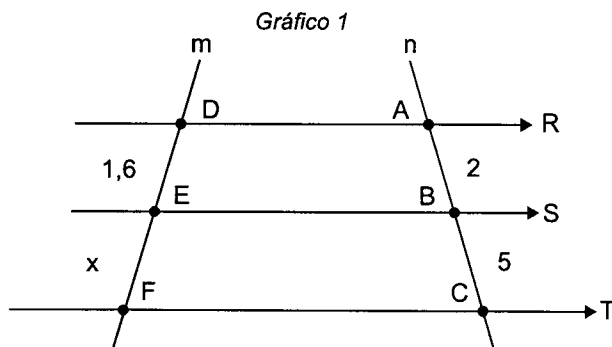
Questão 34

A Prova de Matemática de um concurso foi elaborada com 20 questões. José foi aprovado acertando 15 questões. O número de acertos de José representa quantos por cento do número total de questões?

- A) 15%
- B) 65%
- C) 60%
- D) 70%
- E) 75%

Questão 35

Três estradas paralelas (R, S e T) são cortadas por duas estradas retas transversais (m e n). Analise o Gráfico 1, a seguir, e assinale a alternativa que contém a distância EF.



- A) 3 Km
- B) 4,8 Km
- C) 4,5 Km
- D) 4 Km
- E) 3,5 Km

## Questão 36

Em uma Estação Rodoviária, 3 sinalizadores acendem em intervalos de tempo diferentes:

Farol A → de 3 em 3 minutos.  
Farol B → de 4 em 4 minutos.  
Farol C → de 6 em 6 minutos.

Se os três sinalizadores acenderem neste momento, daqui a quantos minutos voltarão a acender juntos novamente?

- A) 13 minutos.
- B) 6 minutos.
- C) 12 minutos.
- D) 18 minutos.
- E) 14 minutos.

## Questão 37

Dados os conjuntos:

$A = \{-2, -1, 0, 1, 2\}$   
 $B = \{-3, -2, -1, 0, 1, 2, 3\}$   
 $C = \{-4, 4\}$

Então,  $(B - A) \cup C$  é:

- A)  $\{-4, -2, -1, 0, 1, 2, 4\}$
- B)  $\{-4, -3, 3, 4\}$
- C)  $\emptyset$
- D)  $\{-4, 4\}$
- E)  $\{0, 1, 2, 3, 4\}$

Leia a informação seguinte e responda as questões 38 e 39: "Um agricultor colheu 36 toneladas de açaí."

## Questão 38

Quantos quilogramas de açaí foram colhidos?

- A) 36.000
- B) 3.600
- C) 360
- D) 360.000
- E) 3.600.000

## Questão 39

Se ele vende o quilograma por R\$ 1,25, quanto arrecadou com a venda de 36 toneladas de açaí?

- A) R\$ 4.500,00
- B) R\$ 450.000,00
- C) R\$ 45.000,00
- D) R\$ 145.000,00
- E) R\$ 600.000,00

## Questão 40

Qual é o maior número natural que pertence ao conjunto solução da inequação a seguir?

$$2(x-7) + x < 10$$

- A) 6
- B) 8
- C) 10
- D) 7
- E) 5



## ATUALIDADES

## Questão 41

"Ministro do STF diz que caso Donadon é 'mau presságio' para condenados no mensalão. O ministro Ricardo Lewandowski, do STF (Supremo Tribunal Federal), disse que a decretação da prisão de Natan Donadon é um 'mau presságio' para os condenados no julgamento do mensalão." (Fonte: Portal Folha/UOL, 28/06/2013). Qual cargo político é exercido por Natan Donadon?

- A) Prefeito.
- B) Governador.
- C) Vereador.
- D) Deputado Federal.
- E) Senador.

## Questão 42

"Ex-ministro (...) é expulso do Partido Comunista por corrupção. O Partido Comunista da (...) expulsou dos seus quadros o ex-ministro de Ferrovias Liu Zhijun, suspeito de envolvimento em crimes econômicos, disse a imprensa estatal (...). Liu foi demitido em fevereiro de 2011, por causa de 'sérias violações disciplinares'. Ele havia passado uma década comandando os investimentos no setor. Ele pode ser condenado a uma longa pena de prisão, ou à morte." (Fonte: Portal de notícias de O Estado de São Paulo, 28/05/2012). De qual país Liu era ministro?

- A) Brasil.
- B) Turquia.
- C) China.
- D) Rússia.
- E) França.

## Questão 43

"MPL dá aula na Prefeitura de SP sobre a tarifa zero. Pela primeira vez desde o dia 6 deste mês (junho), quando começaram as manifestações pela redução da tarifa de ônibus na capital, manifestantes e acadêmicos dividiram as ruas como palanque. Convocados pelo MPV, o filósofo e professor aposentado da USP Paulo Arantes e o ex-secretário de Transportes da gestão Luiza Erundina (PT) Lúcio Gregori deram 'aulas livres' para cerca de 300 pessoas sobre a tarifa zero na frente da Prefeitura, no fim da tarde desta quinta." (Fonte: Portal de notícias de O Estado de São Paulo, 28/06/2013). O que significa a sigla MPL?

- A) Movimento Passe Livre.
- B) Movimento para a Liberdade.
- C) Movimento Paralisação.
- D) Movimento Participação Livre.
- E) Movimento Partidos Livres.

## Questão 44

O juiz da 10ª Vara de Ananindeua, Raimundo Rodrigues Santana, confirmou nesta quinta, 27, que os cinco pedidos de candidatura feitos às novas eleições para a Prefeitura de (...) já foram devolvidas pelo Ministério Público para sua apreciação. (...) A eleição está marcada para o dia 4 de agosto e, de acordo com o magistrado, outras ações para viabilizar o processo eleitoral, como escolha de mesários e outros, já estão em curso. No dia 2 de maio último, em acórdão divulgado pelo Diário de Justiça da União o TSE autorizou o TRE-PA a convocar novas eleições no município (...). (Fonte: Diário On line, 28/06/2013). Qual é o município paraense que terá novas eleições em agosto?

- A) Ananindeua.
- B) Bragança.
- C) Belém.
- D) Salinas.
- E) Marituba.

**Questão 45**

"Enquanto centenas realizam vigília no hospital, atual presidente diz que o estado de saúde do líder negro se estabilizou, apesar de continuar crítico. Centenas de sul-africanos realizaram uma vigília na noite desta quinta-feira no lado de fora do hospital onde está internado o ex-presidente (...). Segurando velas e cartazes, a multidão se uniu em orações e homenagens ao ícone da luta contra o apartheid." (Fonte: Portal Veja/Abril, 28/06/2013). Como se chama este líder negro?

- A) Barack Obama.
- B) Nelson Mandela.
- C) Luis Inácio Lula da Silva.
- D) François Hollande.
- E) Abdullah Gül



**LEGISLAÇÃO**

**Questão 46**

A Lei Complementar n.º 001/90 de 04 de dezembro de 1990 da Câmara Municipal de Viseu dispõe sobre:

- A) o Estatuto do Funcionalismo Público do Município de Viseu.
- B) o Estatuto dos Funcionários da Câmara do Município de Viseu.
- C) o Plano de Cargos e Salários dos Servidores Públicos do Município de Viseu.
- D) o Plano de Carreira Jurídica do Município de Viseu.
- E) a aprovação do Orçamento Público de 2013.

**Questão 47**

De acordo com o parágrafo único do artigo 2º da Lei Complementar n.º 001/90: "Todos os atos de competência do Executivo e do Legislativo, serão exercidos respectivamente, pelo \_\_\_\_\_ e \_\_\_\_\_, respectivamente, em se tratando de servidores do quadro de pessoal das suas administrações.". Marque a alternativa que preencha corretamente as lacunas:

- A) Presidente da Câmara Municipal e Prefeito.
- B) Juiz de Direito e Prefeito.
- C) Prefeito e Presidente da Câmara Municipal.
- D) Prefeito e Juiz de Direito.
- E) Vereador e Prefeito.

**Questão 48**

Marque a alternativa que preencha corretamente o dispositivo legal previsto no art. 3º, que assim dispõe: "Para os efeitos desta lei, funcionário público é a pessoa legalmente investida em cargo público; e cargo público é o criado por \_\_\_\_\_, com denominação própria, em número certo e pago pelos cofres do \_\_\_\_\_".

- A) decreto; estado.
- B) resolução; estado.
- C) lei; município.
- D) medida provisória; governo.
- E) emenda; município.

**Questão 49**

Os cargos de provimento em Comissão formam o Grupo Ocupacional denominado de:

- A) Direção e Assistência Intermediária.
- B) Direção e Provimento Efetivo.
- C) Cargos em Comissão.
- D) Funções Gratificadas.
- E) Direção e Assessoramento Superior.

**Questão 50**

A nomeação será feita:

- I- para investidura em cargos de provimento efetivo;
- II- para preenchimento dos cargos em comissão.

Após a análise dos itens, marque a alternativa correta:

- A) Apenas o item I está correto.
- B) Apenas o item II está correto.
- C) O item I está errado porque não é efetivo é comissionado.
- D) O item II está errado porque não é em comissão e sim de confiança.
- E) Os dois itens estão corretos.