



100 - Técnico Bancário



Instruções Gerais

Caro Candidato:

Tarde

Leia com atenção e cumpra rigorosamente as seguintes instruções. Elas são parte da prova e das normas que regem este Concurso Público.

1. Este Caderno de Provas contém **60 questões objetivas** a serem respondidas. Recebido da fiscalização da sala, você deve conferi-lo, verificando se está completo. Caso contrário, deve solicitar a sua substituição.
2. O Caderno de Provas pode ser usado livremente para fazer rascunhos (cálculos, desenhos etc.), a fim de concluir pelas respostas às questões formuladas.
3. O tempo de duração total das provas será de **4 (quatro) horas**, incluída a leitura das instruções e o preenchimento dos cartões de leitura óptica (cartões de respostas).
4. Não será permitida a saída definitiva do candidato da sala antes de transcorrida uma (1) hora do início da prova.
5. O candidato poderá levar um Caderno de Provas **somente** após 4 (quatro) horas do início da prova objetiva.
6. Cada questão oferece **5 alternativas de resposta representadas pelas letras a, b, c, d e e, sendo somente uma correspondente à resposta correta.**
7. Iniciada a prova, é vedado formular perguntas, pois o entendimento das questões é parte integrante da mesma.
8. Não é permitido comunicar-se com outro candidato ou socorrer-se de consultas a livros, anotações, agendas eletrônicas, gravadores, usar máquina calculadora, telefone celular e/ou similares ou qualquer instrumento receptor/transmissor de mensagens.
9. No **CARTÃO DE LEITURA ÓPTICA PERSONALIZADO (CARTÃO DE RESPOSTAS)**, você deve preencher totalmente apenas **uma alternativa (a, b, c, d, e) de cada questão, com caneta de ponta grossa azul ou preta, suficientemente pressionada**, conforme o exemplo:

95	<input type="checkbox"/> A	<input checked="" type="checkbox"/>	<input type="checkbox"/> C	<input type="checkbox"/> D	<input type="checkbox"/> E
96	<input type="checkbox"/> A	<input type="checkbox"/> B	<input checked="" type="checkbox"/>	<input type="checkbox"/> D	<input type="checkbox"/> E
97	<input type="checkbox"/> A	<input type="checkbox"/> B	<input type="checkbox"/> C	<input type="checkbox"/> D	<input checked="" type="checkbox"/>

10. Ao final da prova, você deve devolver à fiscalização da sala o **CARTÃO DE RESPOSTAS devidamente assinado no verso**, sem amassá-lo ou dobrá-lo, **porquanto ele é insubstituível.**

11. **É importante que o candidato na devolução do seu Cartão de Respostas, ao final da sua Prova, assine a Listagem que atestará a entrega do mesmo.**

12. A questão não assinalada ou assinalada com mais de uma alternativa, emendada, rasurada, borrada, ou que vier com outra assinalação que não a prevista no item 9, **é nula.**
13. O candidato poderá obter o Caderno de Prova no final da realização da prova objetiva e a mesma será disponibilizada na internet no site **www.conesul.org**.
14. O Gabarito Oficial será divulgado até 5 dias úteis após a realização desta prova objetiva, nos sites **www.banestes.com.br** e **www.conesul.org**.

BOA PROVA!

Língua Portuguesa

INSTRUÇÃO: AS QUESTÕES DE 01 A 15 REFEREM-SE AO TEXTO A SEGUIR.

Governador do Espírito Santo retoma venda do Banestes
FERNANDA KRAKOVICS
da Agência Folha

O governador do Espírito Santo, José Ignácio Ferreira (sem partido), retomou o processo de privatização do Banestes (Banco do Estado do Espírito Santo), a menos de três meses do final de seu mandato. A equipe de _____ do governador eleito, Paulo Hartung (PSB), que é contra a privatização, foi pega de surpresa com a publicação do edital de abertura do processo, no último dia 14.

O governo apostou na desarticulação da Assembléia Legislativa, que havia aprovado em primeiro turno, em agosto, emenda constitucional barrando o processo de privatização.

Para virar lei, a emenda precisava ser aprovada em segundo turno. Como somente dez deputados da atual legislatura foram _____, não haveria mobilização na Casa para barrar novamente a venda do Banestes.

O recuo da Assembléia, no entanto, se deu em outros moldes. O presidente da Casa, José Carlos Gratz (PFL), que antes era contra a privatização, agora é a favor. A emenda constitucional nem será posta em votação. Gratz é adversário político de Hartung.

O assessor de comunicação da Secretaria da Fazenda, Eustáquio Palhares, afirmou que o processo não chegou a ser interrompido.

“O que aconteceu foi que em janeiro a Assembléia votou uma PEC (proposta de emenda constitucional) permitindo ao Estado privatizar o Banestes. Depois, em agosto, votou em primeiro turno uma PEC _____ a situação anterior.”

Para Palhares, a retração da Casa só pode ser explicada por motivos políticos, “por alguns acordos que certamente não foram cumpridos”. Questionado se agora o governo do Estado fez algum tipo de acordo com a Casa, Palhares disse que houve “entendimento e negociações nesse sentido”.

O presidente da Assembléia afirmou que se o atual governo não concluir o processo de privatização ele colocará em votação a PEC para impedir a venda.

“Até 31 de janeiro tenho força política para aprovar a emenda e evitar que o futuro governador faça demagogia. Ele diz que é contra mas, no íntimo, quer a privatização. O Banestes representa 21% da dívida do Estado”, disse Gratz.

O coordenador de programas de governo de Hartung, César Vasquez, afirmou que a privatização do Banestes não era necessária porque foi feito um saneamento financeiro. “Vamos profissionalizar ao máximo a gestão. O que ele não pode ser é gerador de déficit, mas isso se resolve com uma boa administração.” O leilão do banco está previsto para o dia 12 ou 17 de dezembro. O senador Paulo Hartung não retornou as ligações da Agência Folha.

Disponível em: <http://www1.folha.uol.com.br/folha/brasil/ult96u41128.shtml> 25/10/2002 - 03h48. Acesso em: 22 mar. 2008.

1. Assinale a alternativa que completa **correta** e respectivamente as lacunas do texto.

- a) transição – reeleitos – restabelecendo
- b) transição – re-eleitos – reestabelecendo
- c) tranzição – reeleitos – restabelecendo
- d) tranzição – re-eleitos – restabelecendo
- e) transição – reeleitos – reestabelecendo

2. Para se evitar a utilização de “pega” em “foi pega de surpresa com a publicação do edital de abertura do processo”, são feitas as seguintes sugestões de reescritura:

- I. A equipe do governador eleito foi pegada de surpresa com a publicação do edital de abertura do processo.
- II. A publicação do edital de abertura do processo causou surpresa à equipe do governador eleito.
- III. A publicação do edital de abertura do processo surpreendeu a equipe do governador eleito.

Qual(is) delas está(ão) **correta(s)** do ponto de vista tanto sintático quanto semântico?

- a) Apenas a I.
- b) Apenas a II.
- c) Apenas a III.
- d) Apenas a II e a III.
- e) I, II e III.

3. Obedecendo à adequada correlação verbal, a transformação da oração reduzida “para virar lei” em oração desenvolvida está na alternativa

- a) para que vire lei.
- b) a fim de que vire lei.
- c) para que virasse lei.
- d) virando lei.
- e) a fim de virar lei.

4. O nexos que inicia o segundo período do 3º parágrafo poderia ser **corretamente** substituído por

- a) conquanto.
- b) porquanto.
- c) contanto que.
- d) portanto.
- e) todavia.

5. No período “Questionado se agora o governo do Estado fez algum tipo de acordo com a Casa, Palhares disse que houve entendimento e negociações nesse sentido”, não há adequada correlação verbal. Para que houvesse, seria necessário que

- a) “agora” fosse trocado por “ontem”.
- b) “questionado” passasse a “questionaram”.
- c) “fez” passasse a “tinha feito”.
- d) “disse” passasse a “diria”.
- e) “houve” passasse “haveria”.

6. Sobre a pontuação das frases do texto são feitas as seguintes afirmações.

- I. As duas primeiras ocorrências de parênteses no primeiro parágrafo poderiam ser corretamente substituídas por travessões.
- II. No 1º parágrafo, a oração “que é contra a privatização” está entre vírgulas porque é uma adjetiva restritiva.
- III. No 5º parágrafo, deveria haver vírgula obrigatória depois de “afirmou”.

Qual(is) está(ão) **correta(s)**?

- a) Apenas a I.
- b) Apenas a II.
- c) Apenas a III.
- d) Apenas a I e a II.
- e) I, II e III.

7. Assinale a alternativa cuja redação **não** cause mudança de significado no período.

- a) O que aconteceu foi que a Assembléia votou, em janeiro, uma PEC (proposta de emenda constitucional) permitindo ao Estado privatizar o Banestes.
- b) O que aconteceu foi que a Assembléia votou uma PEC (proposta de emenda constitucional) permitindo, em janeiro, ao Estado privatizar o Banestes.
- c) O que aconteceu foi que a Assembléia votou uma PEC (proposta de emenda constitucional) permitindo ao Estado, em janeiro, privatizar o Banestes.
- d) O que aconteceu foi que a Assembléia votou uma PEC (proposta de emenda constitucional) permitindo ao Estado privatizar, em janeiro, o Banestes.
- e) O que aconteceu foi que a Assembléia votou uma PEC (proposta de emenda constitucional) permitindo ao Estado privatizar o Banestes em janeiro.

8. A palavra “retração” (7º parágrafo) encontra sinônimo no texto em

- a) mobilização.
- b) recuo.
- c) processo.
- d) saneamento.
- e) déficit.

9. Assinale a alternativa **correta** sobre a formação das palavras do texto.

- a) O sufixo de “publicação” forma substantivos a partir de adjetivos.
- b) O sufixo de “constitucional” forma adjetivos a partir de substantivos.
- c) “Legislatura” é composta por justaposição.
- d) O sufixo de “certamente” é formador de adjetivos.
- e) “Assessor” é derivada por prefixação e sufixação.

10. A **correta** transformação para o discurso direto do trecho “que se o atual governo não concluir o processo de privatização ele colocará em votação a PEC para impedir a venda” é

- a) O presidente da Assembléia afirmou: “Se o atual governo não concluir o processo de privatização, eu colocarei em votação a PEC para impedir a venda”.
- b) O presidente da Assembléia afirmou: “Se o atual governo não concluir o processo de privatização, eu coloco em votação a PEC para impedir a venda”.
- c) O presidente da Assembléia afirmou: “Se o atual governo não concluir o processo de privatização, eles colocarão em votação a PEC para impedir a venda”.
- d) O presidente da Assembléia afirmou se o atual governo não concluir o processo de privatização, ele colocará em votação a PEC para impedir a venda”.
- e) O presidente da Assembléia afirmou: “Se o atual governo não concluir o processo de privatização, eu colocaria em votação a PEC para impedir a venda”.

11. Na oração “**que** havia aprovado em primeiro turno”, a palavra em destaque é

- a) conjunção integrante.
- b) pronome relativo.
- c) conjunção explicativa.
- d) conjunção causal.
- e) conjunção consecutiva.

12. Assinale a palavra paroxítona.

- a) governador
- b) privatização
- c) assembléia
- d) máximo
- e) ligações

13. No período “o que **ele** não pode é ser gerador de déficit”, a palavra em destaque tem como referente

- a) coordenador.
- b) César Vasquez.
- c) saneamento.
- d) governo.
- e) Banestes.

14. Levando-se em conta apenas a leitura do texto, conclui-se que o processo de privatização do banco

- a) não tinha sido levado a efeito.
- b) dependia apenas do governador eleito.
- c) dependia apenas do governador ainda em exercício.
- d) contava com a votação da Assembléia.
- e) contava com o apoio político do povo.

15. Pelas características que apresenta, o texto é

- a) uma crônica.
- b) um artigo de opinião.
- c) um resumo.
- d) uma notícia.
- e) uma síntese.

Matemática

16. Em uma obra, quinze operários trabalhando nove horas diárias, são capazes de construir trezentos metros quadrados de parede. Se tivermos vinte operários trabalhando seis horas diárias, quantos metros quadrados eles construirão?

- a) 700.
- b) 450.
- c) 350.
- d) 600.
- e) 650.

17. Uma lanchonete permite que se monte o próprio sanduíche, oferecendo três tipos de pão, quatro tipos de queijo fatiado e cinco tipos de embutidos (salame, mortadela etc.), também fatiados. Quantos tipos de sanduíches diferentes pode-se fazer, utilizando apenas um tipo de pão, um tipo de queijo e um tipo de embutido?

- a) 20.
- b) 60.
- c) 30.
- d) 90.
- e) 80.

18. Quantos números de três algarismos pode-se construir, sendo os três algarismos diferentes, ou seja, sem repetir nenhum deles?

- a) 720.
- b) 504.
- c) 448.
- d) 810.
- e) 648.

19. Transformando-se 1,463 dam, obtém-se

- a) 14,63 hm.
- b) 146,3 m.
- c) 1.463 cm.
- d) 1.463 mm.
- e) 0,1463 km.

20. Assinale a alternativa que contém o valor de x que satisfaz a proporção a seguir

$$(x - 4) / 7 = (x + 7) / 4.$$

- a) $x = -65 / 9$.
- b) $x = -65 / 3$.
- c) $x = -130 / 9$.
- d) $x = -130 / 3$.
- e) $x = -65 / 18$.

21. A razão entre vinte e cinco e oito é a mesma que entre seiscentos e vinte e cinco e

- a) sessenta e quatro.
- b) cento e vinte e oito.
- c) cem.
- d) duzentos.
- e) duzentos e cinquenta e seis.

22. Uma empresa tem três setores A, B e C, constituídos respectivamente de 7, 5 e 9 funcionários. No final do ano, será distribuído entre aos três setores, proporcionalmente ao número de funcionários, a quantia de R\$ 39.900,00, que em cada setor será distribuída igualmente entre eles. Quanto receberá cada funcionário do setor C?

- a) R\$ 1.860,00.
- b) R\$ 1.320,00.
- c) R\$ 1.900,00.
- d) R\$ 1.600,00.
- e) R\$ 1.820,00.

23. Considere o texto a seguir.

“O “Estado da Insegurança Alimentar no Mundo 2004”, relatório da FAO (Organização das Nações Unidas para a Agricultura e Alimentação), divulgado no dia 8 de dezembro, concluiu que morrem de fome, anualmente, pelo menos 5 milhões de crianças no mundo, o que dá uma média de um óbito a cada 5 segundos. Ou seja, desde que você começou a ler este parágrafo já morreram duas crianças de fome, pelo menos. Mais de vinte milhões de crianças nascem com o peso abaixo dos padrões mínimos, correndo maior risco de morte durante a infância.”

Fonte: FAO (Food and Agriculture Organization)

A partir do texto anterior é razoável assumir que, em um dia, o número de crianças que morrerão de fome, é da ordem de

- a) 17.280.
- b) 8.640.
- c) 25.920.
- d) 12.960.
- e) 15.552.

24. Assinale a alternativa que corresponde às coordenadas do ponto P(x; y), que é a intersecção das retas

$$\begin{aligned} r: 3x - y &= 5 \text{ e} \\ s: x + 2y &= 4 \end{aligned}$$

- a) (2; 1).
- b) (2; -1).
- c) (-2; 1).
- d) (1; 2).
- e) (-1; 2).

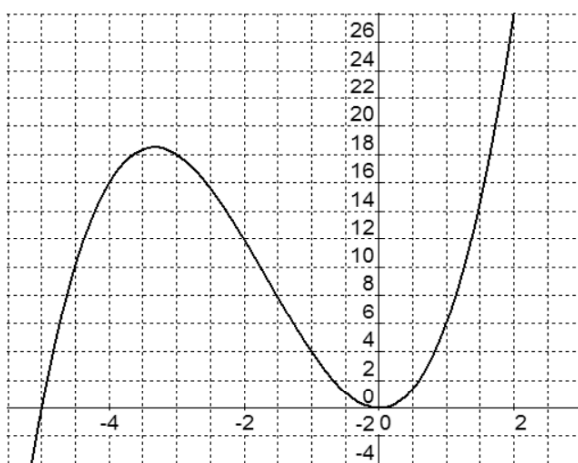
25. Considere a inequação: $x^2 > 5x$. O conjunto solução S da mesma é

- a) $S = \{ x \in \mathbb{R} \mid x > 5 \}$.
- b) $S = \{ x \in \mathbb{R} \mid x < -5 \text{ ou } x > 5 \}$.
- c) $S = \{ x \in \mathbb{R} \mid 0 < x < 5 \}$.
- d) $S = \{ x \in \mathbb{R} \mid 0 \leq x \leq 5 \}$.
- e) $S = \{ x \in \mathbb{R} \mid x < 0 \text{ ou } x > 5 \}$.

26. Um conjunto contém sete elementos. O cardinal do conjunto das partes desse conjunto é igual a

- a) 7.
- b) 49.
- c) 128.
- d) 64.
- e) 14.

27. Observe o gráfico a seguir.



Assinale a alternativa cuja equação corresponde a esse gráfico.

- a) $y = x^2 \cdot (x - 5)$.
- b) $y = x^2 \cdot (-x + 5)$.
- c) $y = x^2 \cdot (x + 5)$.
- d) $y = x \cdot (x^2 + 5)$.
- e) $y = x \cdot (x^2 - 5)$.

28. O valor de x que satisfaz a equação

$$81 / 16 = (2 / 3)^{x/2} \text{ é}$$

- a) $x = -32$.
- b) $x = -8$.
- c) $x = -16$.
- d) $x = -4$.
- e) $x = -1/2$.

29. Aplica-se R\$ 32.000,00, durante dois anos e meio, a uma taxa de juros simples de 5,2% ao trimestre. Ao final do período, o valor dos juros auferidos será igual a

- a) R\$ 8.320,00.
- b) R\$ 12.480,00.
- c) R\$ 15.600,00.
- d) R\$ 16.640,00.
- e) R\$ 14.560,00.

30. Considere a seguinte seqüência:

$1/3 ; 8/3 ; 9 ; \mathbf{xxx}$.

O valor correspondente ao quarto termo, **xxx** é

- a) 15.
- b) $35/3$.
- c) $64/3$.
- d) 18.
- e) 27.

Noções de Informática

Para responder as questões de INFORMÁTICA considere que os programas mencionados estão com a CONFIGURAÇÃO PADRÃO de instalação e que possuem licença de uso, e que o mouse está configurado para *destros* e, ainda, que um clique ou duplo clique corresponde ao botão esquerdo do mouse.

31. Que hardware é considerado um meio exclusivamente de saída?

- a) Scanner
- b) Mouse
- c) Impressora
- d) Disquete
- e) Web Cam

32. No Word 2003, localizamos no *menu* Ferramentas o *submenu* Controlar alterações, que corresponde por padrão à tecla de atalho

- a) Ctrl+Shift+E
- b) Ctrl+Shift+C
- c) Ctrl+Shift+A
- d) Ctrl+Shift+J
- e) Ctrl+Shift+Y

33. Ao acionar-se o Zoom do Word 2003, encontra-se várias opções de visualização. Assinale a alternativa que **não** corresponde a uma dessas opções de visualização.


- a) Largura da página.
- b) Largura do texto.
- c) Página inteira.
- d) Página ampliada.
- e) Duas páginas.

34. Quais são os modos de exibição (menu Exibir) que permitem ao usuário visualizar na tela um cabeçalho/rodapé no Word 2003 já criado anteriormente?

- a) Normal / Estrutura de tópicos
- b) Layout da Web / Normal
- c) Estrutura de tópicos / Layout da Web
- d) Normal / Layout de Visualização
- e) Layout de impressão / Layout de Leitura

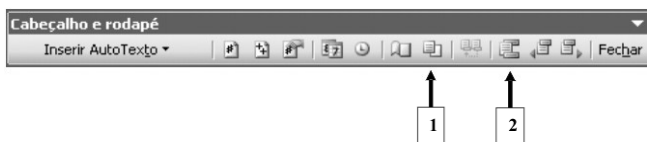
35. Em qual *submenu* se encontra os efeitos do Word 2003: Tachado duplo, Contorno e Oculto?

- a) Parágrafo.
- b) Fonte.
- c) Tema.
- d) Capitular.
- e) Estilos e formatação.

36. O botão  encontrado no *menu* Tabela do Word 2003, é chamado de

- a) Ocultar linhas de grade.
- b) AutoFormatação de tabela.
- c) AutoAjuste.
- d) Dividir células.
- e) Mesclar células.

Figura 1 – Barra do Cabeçalho e rodapé do Word 2003



37. Em relação ao Word 2003 e com base na Figura 1 e nas informações nela contidas, como são chamados os ícones de números: 1 e 2, respectivamente?

- a) Configurar página / Alternar entre cabeçalho e rodapé
- b) Vincular ao anterior / Configurar página
- c) Mostrar/ocultar texto do documento / Alternar entre cabeçalho e rodapé
- d) Copiar cabeçalho e rodapé / Configurar página
- e) Inserir número da página / Configurar página

Figura 2 – Visão parcial de uma planilha do Excel 2003

	A	B	C	D	E	F	G
1	2	15	5				
2	6	3	18				
3							

38. Em relação ao Excel 2003 e com base na Figura 2 e nas informações nela contidas, caso o usuário posicione o botão esquerdo do mouse sobre a seta apontada pela letra A (alça de preenchimento), mantendo pressionado o referido botão e solto sobre a célula E1, logo após esse procedimento, que valor conterà no endereço de célula E1?

- a) 15
- b) 5
- c) 20
- d) -15
- e) 10

Figura 3 – Visão parcial de uma planilha do Excel 2003

	A	B
1	Número de computadores	Número de usuários
2	6	10
3	15	23
4	9	6

39. Em relação ao Excel 2003 e com base na Figura 3 e nas informações nela contidas, qual forma corresponde ao cálculo correto da função MÉDIA somente da coluna A, envolvendo todos os números de computadores?

- a) =MÉDIA(A2:A4)
- b) =MÉDIA*(A2:A4)
- c) =MÉDIA(A2;A4)
- d) =MÉDIA(A4:B4)
- e) =MÉDIA&(A2:A4)

40. Tendo como base o Outlook 2003, os botões

 ,  são chamados respectivamente de

- a) Verificar nomes / Prioridade: Baixa
- b) Verificação nomes / Criar regra
- c) Acesso Irrestrito / Criar regra
- d) Sinalizador de mensagens / Drop down
- e) Catálogo de endereços / Prioridade: Baixa

Conhecimentos Gerais

41. Em 15 de janeiro de 2008 foi veiculada a seguinte notícia no site do Ministério das Relações Exteriores:

*O ministro das Relações Exteriores, Celso Amorim, discordou ontem da tese do presidente da Venezuela, Hugo Chávez, de que as Forças Armadas Revolucionárias da Colômbia (Farc) devem ser consideradas uma “força **beligerante**” e não um grupo terrorista. Questionado sobre o assunto, Amorim disse que o Brasil não faz uma classificação definindo quais são os grupos terroristas: “A única organização terrorista que o Brasil tem classificada é a Al-Qaeda, porque o País segue a ONU.”*

A palavra destacada só **não** pode significar

- a) belicosa.
- b) guerreira.
- c) conciliadora.
- d) aguerrida.
- e) combativa.

42. Considere as afirmativas a seguir sobre as relações China e Tibete. (Tópicos de Entrevista de Topgyal ao Jornal O Globo – Adaptados)

- I. Há interesses estratégicos e militares no conflito: o planalto dá à China uma vantagem militar sobre os países do sul asiático. Ela ficaria extremamente vulnerável se alguma outra potência tomasse conta do Tibete. O Himalaia oferece uma defesa natural.
- II. Há também interesses econômicos: a presença de vários recursos minerais tais como o ouro e o urânio. Há também uma questão ideológica: o nacionalismo chinês, no qual uma nova versão foi construída para incluir o Tibete como parte da China, requer que a região esteja firmemente com a China. Caso contrário, os nacionalistas chineses poderiam pedir a saída do partido.
- III. Alguns tibetanos desejam a completa independência. Outros querem uma autonomia real. Todos aspiram pela volta do Dalai Lama para poder ouvir seus ensinamentos budistas, de direitos humanos, e de liberdade religiosa. Eles também querem liberdade para o Panchen Lama (o segundo maior lama no Tibete), que foi escolhido pelo Dalai Lama. Ele foi preso com sua família aos seis anos e ninguém sabe onde ele está.
- IV. A questão religiosa é uma das questões que os tibetanos têm com os chineses. A China é governada por um partido comunista que é oficialmente ateu. Nos anos 1950 e 1960, o budismo foi praticamente destruído pelos chineses durante a Revolução Cultural.

Está(ão) **correta(s)**

- a) todas as afirmativas.
- b) nenhuma das afirmativas.
- c) apenas a I e a II.
- d) apenas a III e a IV.
- e) apenas a IV.

43. A Petrobras confirmou em 20 de setembro de 2007 a descoberta de petróleo leve na Bacia de Santos. Segundo comunicado da estatal, os testes comprovam a descoberta de petróleo leve pelo poço pioneiro, comunicada ao mercado em julho do ano passado, na área de _____, na porção fluminense da bacia, que se estende do sul do estado do Rio de Janeiro ao _____.

Assinale a alternativa cujas expressões completam **correta** e respectivamente as lacunas.

- a) Guarani / norte do Rio Grande do Sul
- b) Botucatu / norte do Espírito Santo
- c) Tapuia / norte de São Paulo
- d) Tupi / norte de Santa Catarina
- e) Tapajós / Norte de Goiás

44. Durante os anos de 2006, 2007 e 2008 a instalação das “papeleras”, na América do Sul, tem provocado controvérsias, especialmente entre dois países:

- a) Uruguai e Argentina.
- b) Brasil e Bolívia.
- c) Brasil e Argentina.
- d) Brasil e Uruguai.
- e) Venezuela e Colômbia.

45. No dia 1º de Maio de 2007, uma nova lei do governo (de um país latino americano) determinou um prazo de 180 dias para a passagem do controle acionário das empresas petrolíferas estrangeiras que operam no país para a empresa estatal petrolífera do referido país, cujos principais ativos, incluindo refinarias e áreas de produção, haviam sido privatizados ao longo dos anos 90. Uma das empresas “estrangeiras” que atuam neste país é a brasileira Petrobras.

O país referido, que determinou o prazo foi

- a) a Venezuela.
- b) o Equador.
- c) a Argentina.
- d) o Peru.
- e) a Bolívia.

Conhecimentos Específicos

46. “Art. 17. Consideram-se _____, para os efeitos da legislação em vigor, as pessoas jurídicas públicas ou privadas, que tenham como atividade principal ou acessória à coleta, intermediação ou aplicação de recursos financeiros próprios ou de terceiros, em moeda nacional ou estrangeira, e a custódia de valor de propriedade de terceiros.”

Assinale a alternativa que preenche **corretamente** a lacuna do caput do Art. 17 da Lei 4.595/1964.

- a) Empresas Públicas.
- b) Instituições Financeiras.
- c) Bancos Públicos.
- d) Instituições Privadas.
- e) Associações Financeiras.

47. Qual o valor previsto no Art. 16, circular BACEN 2892/2001 que autoriza as instituições bancárias a postergar para o expediente seguinte, operações de saques de valores em espécie, realizadas em conta de depósito à vista?

- a) R\$ 1.000,00.
- b) R\$ 2.000,00.
- c) R\$ 5.000,00.
- d) R\$ 10.000,00.
- e) R\$ 50.000,00.

48. Qual a alínea utilizada para devolução de cheques apresentados a um determinado banco, motivado por conta encerrada, conforme Resolução 1682, Art. 6º e 14?
- Alínea 11.
 - Alínea 28.
 - Alínea 21.
 - Alínea 44.
 - Alínea 13.
49. A alínea 28, prevista no Art. 1º da Circular 2655, prevê a devolução de cheques apresentados às Instituições Bancárias por motivo de:
- Insuficiência de fundos – primeira apresentação;
 - Insuficiência de fundos – segunda apresentação;
 - Contra ordem ou oposição ao pagamento por furto ou roubo;
 - Divergência ou insuficiência de assinatura;
 - Prática expúria.
50. “Art. 14. O Banco Central da República do Brasil será administrado por uma Diretoria de _____, um dos quais será o Presidente, escolhidos pelo Conselho Monetário Nacional dentre seus membros mencionados no inciso IV, do artigo 6º, desta lei.”
- Assinale a alternativa que preenche **corretamente** a lacuna do caput do Art. 14 da Lei 4.595/1964, que normatiza o número de componentes da diretoria do Banco Central.
- 04 (quatro) membros
 - 05 (cinco) membros
 - 06 (seis) membros
 - 08 (oito) membros
 - 10 (dez) membros
51. Conforme os itens do Art. 1º da Lei 7.357/1985, o cheque deve conter os seguintes elementos:
- a denominação “cheque” inscrita no contexto do título e expressa na língua em que este é redigido.
 - a ordem incondicional de pagar quantia determinada.
 - o nome do favorecido do cheque.
 - a indicação do lugar de pagamento.
 - a indicação da data e do banco sacado.
 - a assinatura do emitente (sacador), ou de seu mandatário com poderes especiais.
- Assinale a alternativa que contém a transcrição **errada** do(s) item(ns) do Art. 1º da Lei 7.357/1985.
- Somente II está errada.
 - Somente I e V estão erradas.
 - Somente VI está errada.
 - Somente III e V estão erradas.
 - Somente V está errada.
52. Assinale a alternativa composta apenas por Instituições Normativas do Sistema Financeiro Nacional.
- BACEN, BANESTES, CMN.
 - Santander Banespa, CMN, CVM.
 - CMN, BACEN, CVM.
 - BANESTES, BNDES, CVM.
 - COPOM, CVM, BNDES.
53. Qual o valor mínimo vigente fixado pelo BACEN para um correntista transferir recursos de uma conta de determinada instituição bancária para outra, utilizando para isso a “TED – Transferência Eletrônica Disponível”?
- R\$ 10.000,00.
 - R\$ 2.000,00.
 - R\$ 15.000,00.
 - R\$ 5.000,00.
 - R\$ 50.000,00.
54. Pode-se dizer que “Cheque visado” é o que
- foi visto pelo favorecido antes de ser depositado em sua conta.
 - é garantido por crédito especial do banco, sacado em favor do emitente.
 - é atravessado por duas linhas paralelas oblíquas, em seu averso, que restringe sua circulação e só pode ser pago a um banco.
 - desde logo tem sua quantia transferida e colocada à disposição do portador legitimado.
 - é também denominado “Administrativo” e é emitido por um banco, contra seus próprios caixas, a pedido de alguém, a favor do solicitante e de outrem.
55. Pode-se dizer que “Cheque Garantido” é o que
- foi visto pelo favorecido antes de ser depositado em sua conta.
 - é garantido por crédito especial do banco sacado em favor do emitente.
 - é atravessado por duas linhas paralelas oblíquas, em seu averso, que restringe sua circulação e só pode ser pago a um banco.
 - desde logo tem sua quantia transferida e colocada à disposição do portador legitimado.
 - é também denominado “Administrativo” e é emitido por um banco, contra seus próprios caixas, a pedido de alguém, a favor do solicitante e de outrem.
56. Quais os prazos de apresentação de um cheque na praça de emissão e em outra praça? Assinale a alternativa que apresenta os prazos **corretos** e respectivos, previstos no Art. 33 da Lei 7.357/1985.
- 20 e 90 dias.
 - 30 e 40 dias.
 - 60 e 120 dias.
 - 30 e 60 dias.
 - 30 e 120 dias.

57. Pode-se dizer que “Cheque Cruzado” é o que

- a) foi visto pelo favorecido antes de ser depositado em sua conta.
- b) é garantido por crédito especial do banco sacado em favor do emitente.
- c) é atravessado por duas linhas paralelas oblíquas, em seu anverso, que restringe sua circulação e só pode ser pago a um banco.
- d) desde logo tem sua quantia transferida e colocada à disposição do portador legitimado.
- e) é também denominado “Administrativo” e é emitido por um banco, contra seus próprios caixas, a pedido de alguém, a favor do solicitante e de outrem.

58. Qual o prazo de prescrição de um cheque definido no Art. 59, para executar a falta de pagamento prevista no Art. 47 da Lei 7.357/1985?

- a) 6 meses após a emissão.
- b) 3 meses após expirar o prazo de apresentação.
- c) 9 meses após a emissão independente do prazo de apresentação.
- d) 6 meses, contados após expirar o prazo de apresentação.
- e) 12 meses após a emissão.

59. “Art. 4º Nos sistemas em que o volume e a natureza dos negócios, a critério do Banco Central do Brasil, forem capazes de oferecer risco à _____ e ao normal funcionamento do sistema financeiro, as câmaras e os prestadores de serviços de compensação e de liquidação assumirão, sem prejuízo de obrigações decorrentes de lei, regulamento ou contrato, em relação a cada _____, a posição de parte contratante, para fins de liquidação das obrigações, realizada por intermédio da câmara ou prestador de serviços.”

Assinale a alternativa que preenche na seqüência **correta** e respectiva as lacunas do caput do Art. 14 da Lei 10.214/2001, que trata da liquidação e compensação de títulos no Sistema de Pagamentos Brasileiro no âmbito do Sistema Financeiro Nacional.

- a) solidez – participante
- b) rentabilidade – empresa
- c) solidez – entidade
- d) sociedade – negócio
- e) entidade – participante

60. Conforme determina o artigo 3º da Lei 6.099/1974, em qual grupo contábil a operadora de arrendamento mercantil deverá escriturar os bens destinados ao arrendamento mercantil, ou seja, sua atividade fim?

- a) Ativo Circulante.
- b) Ativo Disponível.
- c) Ativo Realizável à Longo Prazo.
- d) Ativo Permanente – Investimento.
- e) Ativo Permanente – Imobilizado.

